


Station 7 – Kopfgeometrie 1




1. Welche Form entsteht, wenn du die Punkte verbindest? Überlege zuerst, verbinde dann.
2. Spanne die Form auf dem Geobrett nach.



Verbinde 9, 7, 17, 19 und 9.


Es entsteht ein:



Verbinde 6, 21, 10 und 6.

Es entsteht ein:





Station 12 – Domino

