




Station 4 - Farbige Felder füllen

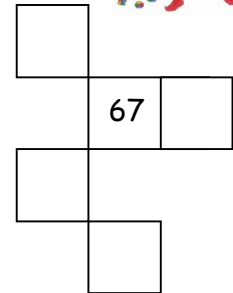
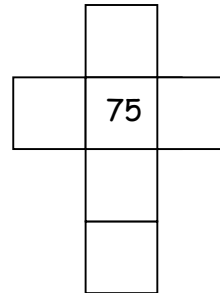
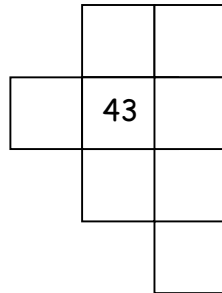
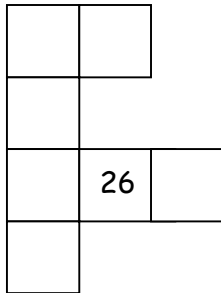


■	■							■	■
■									■
		■	■				■		
		■	■			■			
				■	■				
				■	■				
			■			■	■		
		■				■	■		
■									■
■	■							■	■



Station 13 - Quiz

1. Fülle die leeren Felder!



2. Setze die Zahlenreihen fort!

12, 14, 16, _____, _____, _____, 24

39, 41, 43, _____, _____, _____, 51

85, 80, 75, _____, _____, _____, 55

43, 41, 39, _____, _____, _____, 31



3. Rätsel

Meine Zahl liegt zwischen der 56 und der 64. Sie enthält eine 1 und eine andere Zahl.

Meine Zahl ist eine Zehnerzahl und liegt genau zwischen der 40 und der 60.

Meine Zahlen sind jeweils einen Zehner von der 74 entfernt.

4. Rechne aus!

$64 + 8 =$ _____

$93 - 7 =$ _____

$34 + 12 =$ _____

$79 + 6 =$ _____

$55 - 8 =$ _____

$46 - 23 =$ _____

