



Level 1 – Teil 1

Schreibe die Zahl in Geheimschrift. Trage sie auch in die Stellenwerttafel ein.


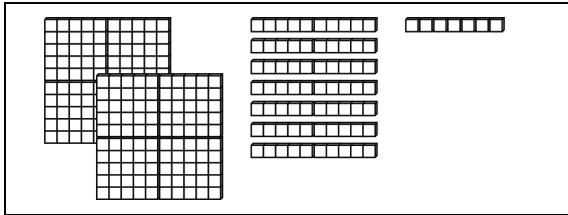
Orientiere dich am Beispiel.

277

H	Z	E
2	7	7

320

H	Z	E



802

H	Z	E

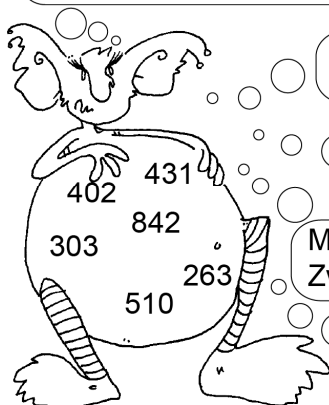
396

H	Z	E



Das Monster hat Zahlen gefressen und nun Bauchschmerzen. Hilf ihm, die Zahlen wieder loszuwerden, indem du jeweils das passende Ergebnis neben die Denkblase schreibst.

Meine Zahl liegt zwischen 400 und 500.
Sie hat einen Einer und drei Zehner.



Meine Zahl hat drei Einer, ebenso viele Hunderter, aber keinen Zehner.

Meine Zahl hat vier Hunderter.
Einer sind es nur halb so viele.

Meine Zahl hat doppelt so viele Zehner wie Einer.
Zwei Hunderter gehören auch noch dazu.

Meine Zahl liegt zwischen 800 und 900 und
sie hat doppelt so viele Zehner wie Einer.

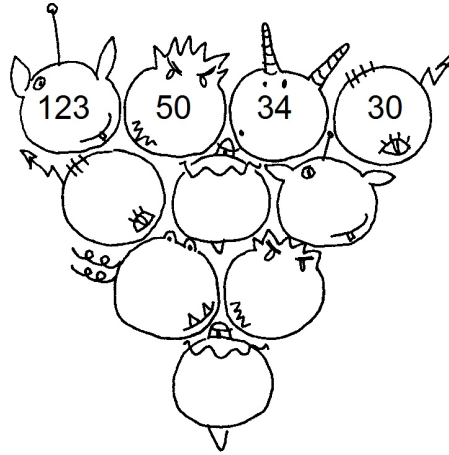
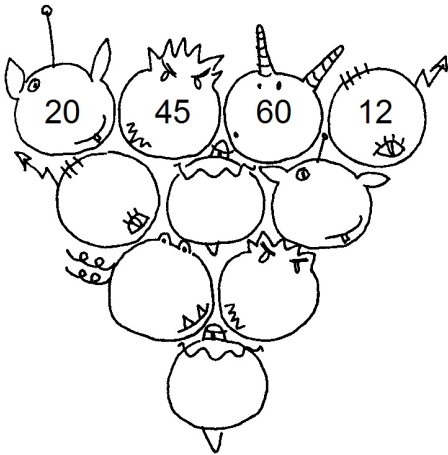



Eine Zahl bleibt übrig. Fällt dir dazu ein passendes Zahlenrätsel ein? Schreibe es in dein Heft. Du kannst dir auch ein Rätsel zu einer eigenen Zahl ausdenken.



Level 3 – Teil 4

Kannst du die Monster richtig ausfüllen? Du schaffst es, indem du addierst.

Sieh dir das Beispiel an.



Hier kannst du erfahren, was die Monster am liebsten machen.

Suche zu den Ergebnissen die Buchstaben und schreibe die Lösungswörter auf.

478 - 477 = _____

164 + 46 = _____

527 + 173 = _____

900 - 255 = _____

725 - 117 = _____

438 - 290 = _____

511 - 375 = _____

777 - 112 = _____

324 + 567 = _____

237 - 197 = _____

800 - 599 = _____

1040 = N

699 = L

201 = N

1 = E

40 = E

756 - 57 = _____

608 = H

971 + 58 = _____

645 = C

542 + 397 = _____

148 = R

73 + 733 = _____

665 = C

645 - 351 = _____

294 = E

136 = E

891 = K

939 = C

806 = H

700 = S

1029 = A

210 = R

Lösungswort: _____

Lösungswort: _____