




Finde die Lieblingsverstecke der Pinguine
Übung 1a
(ohne Hausnummern)




Die Pinguine verstecken sich heute immer bei der
1
 Male ihre Lieblingsplätze gelb an.



Wo verstecken sich die Pinguine?

Übung 6

1	2	3	4	5		7	8	9	10
11	12	13	14	15		17	18	19	20
21	22	23	24	25		27	28	29	30
31	32	33	34	35		37	38	39	40
41	42	43	44	45		47	48	49	50
51	52	53	54	55		57	58	59	
									70
71	72	73	74	75		77	78	79	80
81	82	83	84	85		87	88	89	90
91	92	93	94	95		97	98	99	100



Finde die Lieblingszahl der Pinguine heraus.
Schreibe die fehlenden Zahlen in das
Hunderterfeld.

Merkst du, welche Ziffer bei allen vorkommt?
Richtig, es ist die _____!