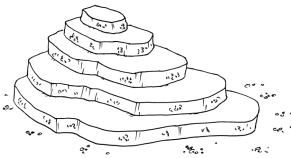
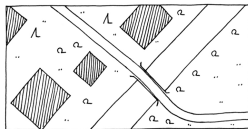



Inhalt



Erläuterungen	4
Laufzettel	7
Auftragskarten	8
Stationen	
Station 1 – Die vier Himmelsrichtungen	16
Station 2 – Orientierungstrick mit der Uhr	20
Station 3 – Der Polarstern	23
Station 4 – Die Natur als Orientierungshilfe nutzen	26
Station 5 – Wie funktioniert ein Kompass?	28
Station 6 – Einen Kompass bauen	31
Station 7 – Rund um den Kompass	32
Station 8 – Orientierung durch Karten	34
Station 9 – Wie fertigt man eine Karte an?	36
Station 10 – Eine Legende lesen	38
Station 11 – Karten haben Planquadrate	41
Station 12 – Einen Stadtplan lesen	42
Station 13 – Der Maßstab	44
Station 14 – Höhenlinien – wie kommt der Berg auf die Karte?	48
Station 15 – Eine Karte einnorden	52
Station 16 – Orientierungsquiz	54
Lösungen	
Lösung Station 1 – Die vier Himmelsrichtungen	57
Lösung Station 2 – Orientierungstrick mit der Uhr	61
Lösung Station 3 – Der Polarstern	63
Lösung Station 4 – Die Natur als Orientierungshilfe nutzen	64
Lösung Station 5 – Wie funktioniert ein Kompass?	66
Lösung Station 6 – Einen Kompass bauen	67
Lösung Station 7 – Rund um den Kompass	68
Lösung Station 8 – Orientierung durch Karten	70
Lösung Station 10 – Eine Legende lesen	72
Lösung Station 11 – Karten haben Planquadrate	73
Lösung Station 12 – Einen Stadtplan lesen	74
Lösung Station 13 – Der Maßstab	75
Lösung Station 15 – Eine Karte einnorden	79

